

Concours blanc



00:10



- Si Lucien habite à Lunel, Martine à Marseille et Virginie à Vienne, où habite Nicole ?
 a. Nantes b. Nîmes c. Rennes d. Lyon
- Que manque-t-il à ce proverbe dont les mots ont été mélangés ?
amis les comptes bons les font
 a. Des b. Un c. Bons d. Pour
- Compléter cette analogie :
Pages est à livre ce que pièces est à
 a. Salon b. Maison c. Chambre d. Espace
- Quelle proposition complète cette série ?
3 7 15 31 63 ?
 a. 72 b. 81 c. 127 d. 141
- Quelle proposition complète cette série ?
Cheveux 7 Tirage 6 Parapluie 9 Capuchon 8
 a. Vélo 4 b. Clavier 17 c. Jupe 6 d. Carotte 5
- Quelle proposition complète cette série ?
10 X 5 V 50 L 1 I 100 ?
 a. C b. D c. W d. M

7. Compléter cette analogie :

$\begin{matrix} R \\ F \end{matrix} G$ est à $\begin{matrix} F \\ G \end{matrix} R$ ce que $\begin{matrix} A \\ K \end{matrix} E$ est à ?

$\begin{matrix} K \\ E \end{matrix} A$
 a.

$\begin{matrix} E \\ K \end{matrix} A$
 b.

$\begin{matrix} K \\ E \end{matrix} A$
 c.

$\begin{matrix} K \\ E \end{matrix} A$
 d.

8. Quelle proposition complète cette série ?



a.

b.

c.

d.

9. Cyril emprunte 1 000 € à la banque avec un intérêt de 10 %.

Quelle somme devra-t-il rembourser à la banque ?


a. 100 €

b. 900 €

c. 1 000 €

d. 1 100 €

10. Quel domino complète cette série ?



2

Concours blanc

00:10



1. Déterminer la valeur du cadeau en vous servant des 3 égalités ci-dessous :

$$\text{verre} + \text{verre} + \text{verre} + \text{verre} = 12$$

$$\text{verre} + \text{bonbon} + \text{bonbon} = 13$$

$$\text{bonbon} + \text{bonbon} + \text{cadeau} + \text{verre} = 15$$

- a. 1 b. 2 c. 3 d. 4

2. Quelle lettre complète cette série :

7 S 9 N 8 H 4 ?

- a. X b. M c. Q d. D

3. Compléter cette analogie :

Pointeau est à taupoin ce que peauchou est à :

- a. cheaupou b. pacheau c. poucheau d. choupeau

4. Compléter cette série logique :

4 6 12 14 28 30 ?

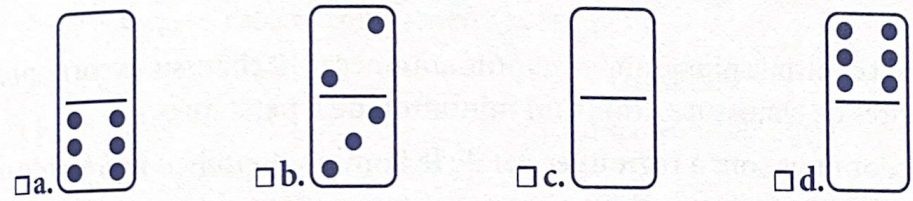

- a. 60 b. 65 c. 68 d. 70

5. Si un livre coûte 12 €, une plante 16 €, une casquette 3 €, combien coûte une robe ?
 a. 14 € b. 18 € c. 20 € d. 31 €

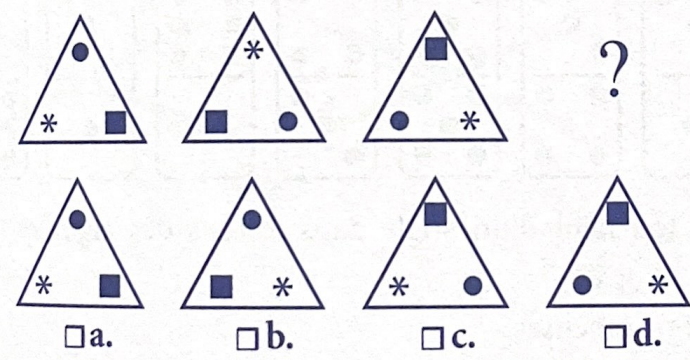
6. Si 46346153 = CASCADES et 82995 = GOMME, à quoi est égal 9533685 ?
 a. Messenger b. Mésange c. Message d. Mimosa

7. Devant une porte d'accès à un sauna se trouvent 4 serviettes, 12 chaussures et 5 sacs. Avec ces informations, combien pouvez-vous dire qu'il y a de personnes au minimum ?
 a. 5 b. 6 c. 12 d. 21

8. Quel domino complète cette série ?



9. Quelle forme complète cette série :



10. Quelle proposition se rapproche le plus du proverbe « L'habit ne fait pas le moine » ?
 a. La religion ne peut être que spirituelle.
 b. Les qualités humaines sont plus importantes que les possessions.
 c. Les apparences sont trompeuses.
 d. À chaque métier son uniforme.

00:10



1. Trouver l'intrus :

- a. Cidre
- b. Cabas
- c. Crise
- d. Copie

2. Continuer cette analogie :

Livre est à pages ce que bibliothèque est à.... ?

- a. Salon
- b. Maison
- c. Livres
- d. Médiathèque

3. Si Valérie fait la vaisselle, Lucie lave le linge et Carine fait les courses, que fait Chloé ?

- a. La cuisine
- b. Le ménage
- c. Les vitres
- d. La poussière

4. Continuer cette série :

L 50 V 5 C 100 I ?

- a. 9
- b. 1
- c. 42
- d. 51

5. Si VAISSELLE correspond à 941552332, à quoi correspond VALISE ?

- a. 943521
- b. 943125
- c. 941352
- d. 943152

6. Quelle forme remplace le point d'interrogation ?



- a.  b.  c.  d. 

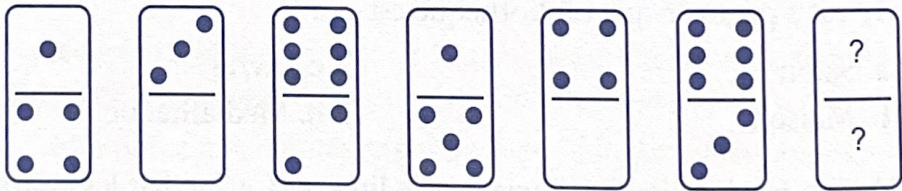
7. Quelle lettre complète cette série ?





- A B D G K ?
 a. O b. P c. Q d. R

8. Quelle proposition complète la série ?

- Panier 16 Serviette 19 Règle 18 Chien 3
 a. Oasis 12 c. Quartier 17
 b. Poésie 12 d. Rose 9

9. Compléter cette série.



- a.  b.  c.  d. 

10. Quel mot manque-t-il à ce proverbe dont les termes ont été mélangés ?
 Vices de la tous les mère l'est

- a. Intelligence c. Ironie
 b. Impatience d. Oisiveté

6

Concours blanc

0 0 : 1 2



1. Compléter cette série :

51 C

223 D

46 Q

1001 M

84 ?

a. Q

b. O

c. S

d. H

2. Trouver l'intrus :

a. Carré 5

c. Photo 15

b. Valet 20

d. Noir 4

3. Toutes les chambres sont occupées. Certaines suites sont des chambres. Que peut-on déduire de ces affirmations ?

a. Certaines suites sont occupées.

b. Toutes les suites ne sont pas occupées.

c. Certaines pièces occupées ne sont pas des chambres.

4. Trouver l'intrus :

a.



b.



c.



d.



5. Continuer cette analogie :

Courroux est à colère ce que fourbe est à...

a. Méchant

c. Hypocrite

b. Amusant


d. Honnête





6. Quel nombre complète cette suite ?

24 49 99 ?

- a. 164 b. 170 c. 198 d. 199

7. Trouver la bonne proposition.



- a.  b.  c.  d. 

8. Compléter cette suite :

D 23 L 15 R 9 I 18 Z ?

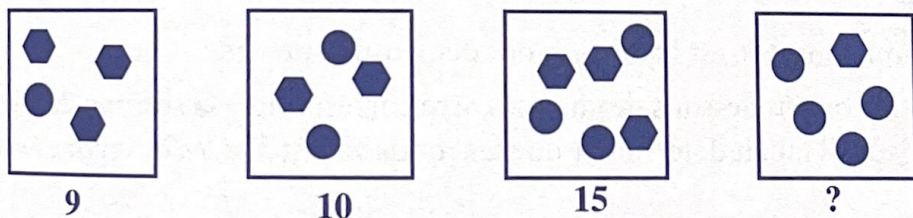
- a. 1 b. 4 c. 7 d. 22

9. Compléter cette suite :

3 4 7 11 18 29 47 ?

- a. 76 b. 81 c. 99 d. 102

10. Quel nombre doit-on logiquement placer sous la 4^e figure ?



- a. 10 c. 15
 b. 14 d. 17

9

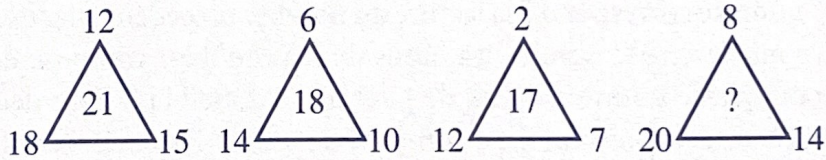
Concours blanc

0 0 : 1 2




1. La classe de CM2 compte 15 filles et 25 % de garçons. Combien y a-t-il d'élèves dans cette classe ?
- a. 15 b. 20 c. 25 d. 30

2. Quel nombre remplace le point d'interrogation ?



- a. 16 b. 22 c. 26 d. 30

3. Quel domino complète cette série ?



- a. b. c. d.

4. Quel mot complète cette série ?

- Air Rail Salir ?
- a. Aniser b. Antres c. Relais d. Laines

5. Quelle proposition complète cette série ?
 D 2 X D 12 E S 16 E D 18 T ?
 a. T 32 S b. S 67 T c. S 70 O d. D 78 U

6. Compléter cette série logique.
 321 231 132 123 312?
 a. 213 b. 321 c. 231 d. 132

7. Compléter cette série logique
 7 16 11 14 15 12 19 10 23 ?
 a. 8 b. 9 c. 21 d. 25

8. Quelle fleur complète cette série ?



9. Quel mot continue cette suite logique ?
 Cadenas Blouson Piétons Houblon
 a. Amnésie c. Grizzly
 b. Coussin d. Matin

10. Trouver l'intrus :
 a. Scotchs 15 c. Vizir 9
 b. Lettre 5 d. Pot 20

© Dunod - Toute reproduction non autorisée est un délit.